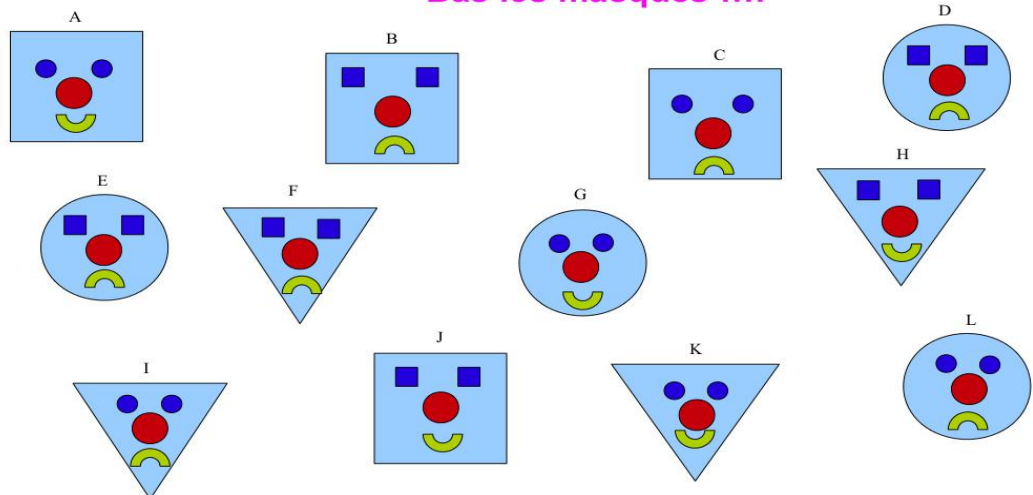


Enigmes pour les enfants

N°4 (11./05/2020)-Réponse le 18/05/2020

GS

Bas les masques !!!!




J'ai perdu mon masque.

- As-tu un masque carré ? **NON**
- Es-tu souriant ? **OUI**
- As-tu les yeux de la même forme que ton masque ? **OUI**

Voici tous les masques, retrouve le mien à l'aide des réponses aux questions.

CP

Regarde les balances :




Range du plus léger au plus lourd les trois aliments :

.....<.....<.....

CE1

Quatre chats courent dans le champ pour grimper à un arbre.



Le chat noir n'est ni premier, ni dernier. Le chat roux est juste après le chat noir. Le chat gris est le plus rapide de tous.

Le chat blanc est juste après le chat gris.

Dans quel ordre arrivent les quatre chats ? Dessine les .

--	--	--	--

CE2

$$\text{camion} + \text{camion} + \text{camion} = 30 \text{ €}$$

$$\text{camion} + \text{ours} + \text{ours} = 22 \text{ €}$$

$$\text{camion} + \text{ours} + \text{fidget spinner} = 20 \text{ €}$$

Avec les informations ci-dessus, trouve le prix de chaque jouet :

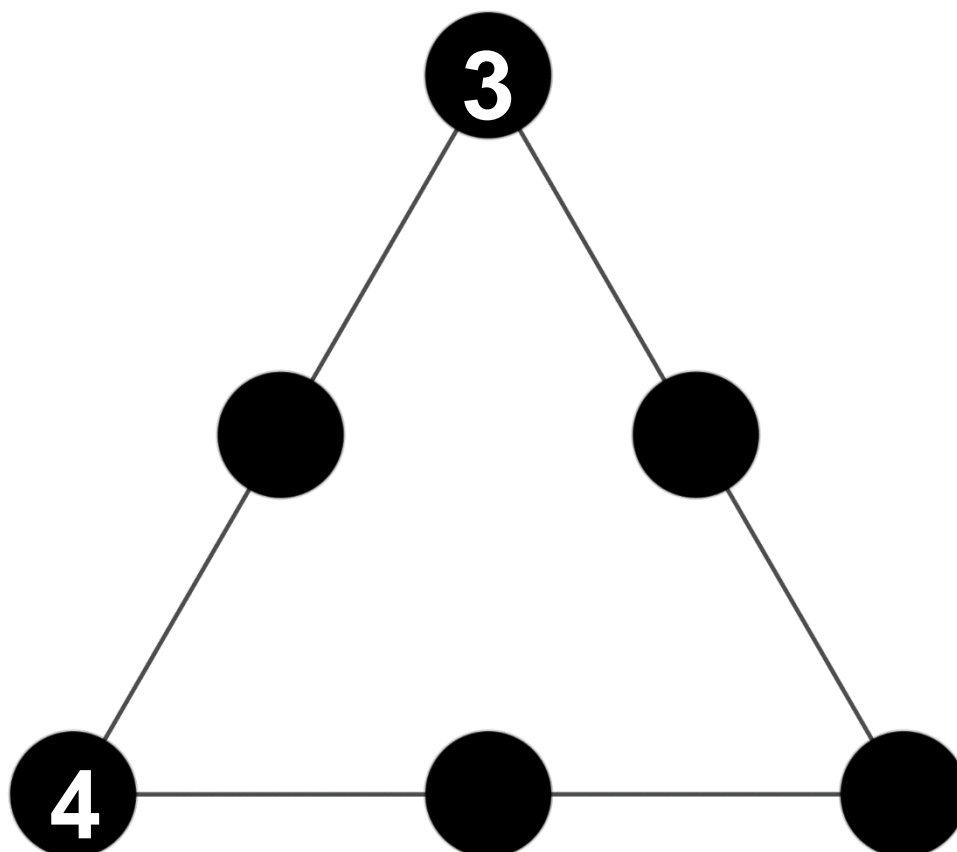
$$\text{camion} = \dots \text{ €}$$

$$\text{ours} = \dots \text{ €}$$

$$\text{fidget spinner} = \dots \text{ €}$$

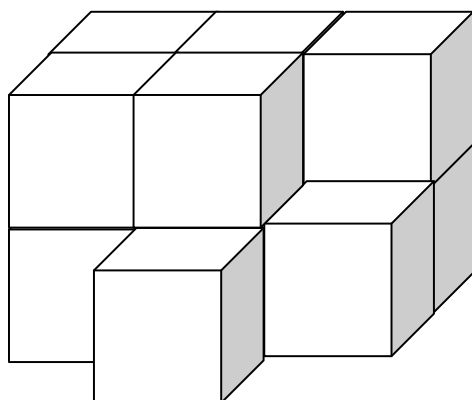
CM1

Tu dois placer les nombres **2,4,6 et 8** dans les ronds noirs pour que le produit sur chaque ligne du triangle fasse 48.



CM2

Regarde cette construction de cubes collés les uns aux autres :



Pierre veut la peindre. Il lui faut cinq coups de pinceaux pour peindre un carré. Il veut peindre entièrement la construction, y compris la face en-dessous.

Combien de coups de pinceaux doit-il donner pour peindre toute la construction ?